

京都産業大学附属高等学校
平成22年度 入学試験問題

社会

注意事項

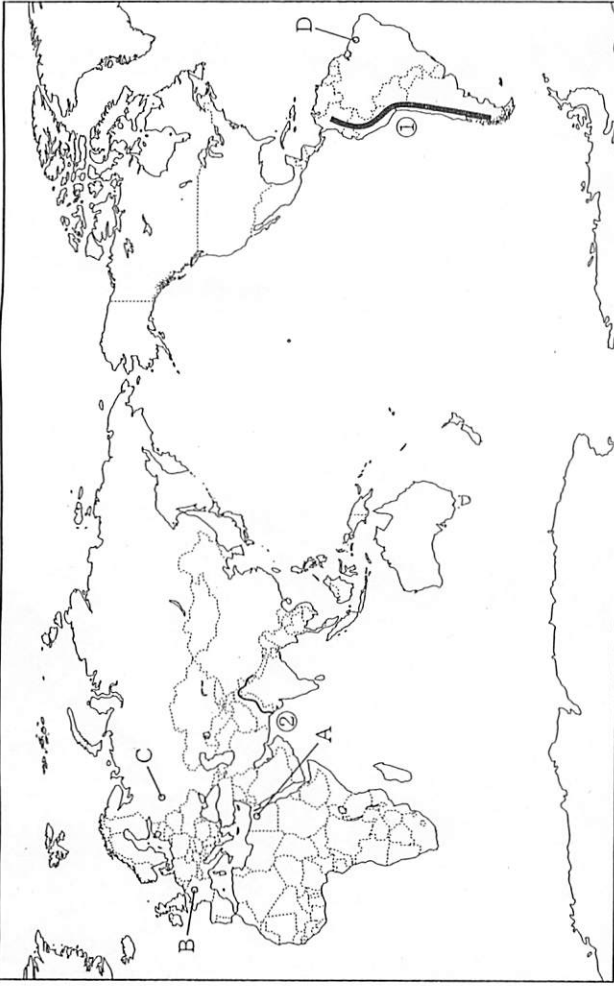
1. 試験開始の合図があるまでこの問題を開いてはいけません。
2. 問題は10ページ、解答用紙は1枚です。
3. 試験開始の合図で、解答用紙と問題に受験番号、氏名、中学校名を
はつきり記入しなさい。
4. 解答時間は50分です。

受験番号	氏名	中学校名	中学校
------	----	------	-----



1 次の地図Ⅰ・Ⅱ、およびグラフⅢを見て、あとの問いに答えなさい。

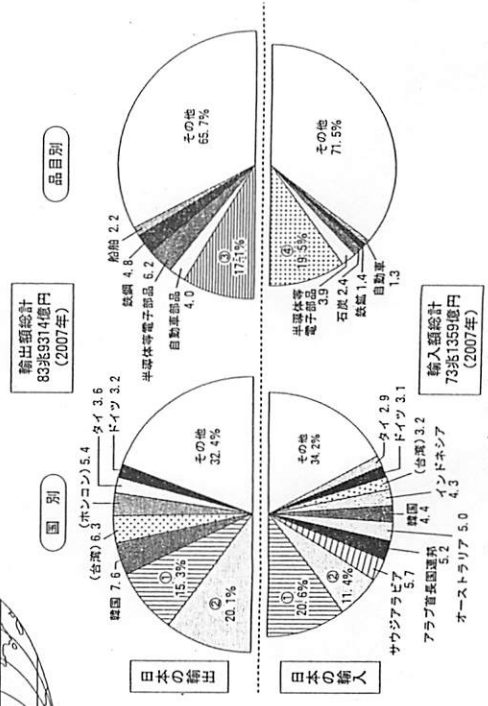
地図Ⅰ



地図Ⅱ




グラフⅢ




問1 地図Ⅰについて、①の山脈名、②の河川名を答えなさい。
 問2 地図Ⅰについて、Bの都市の気温と降水量の変化を表すグラフとして正しいものを次のア～エの中から1つ選び、記号で答えなさい。


ア




イ



ウ




エ



「2009データブック オブ・ザ・ワールド」(二宮書店)より作成

問3 地図Ⅰについて、次の写真のような風景が周辺に見られる都市はどこですか。A～Dの中から最も適切なものを1つ選び、記号で答えなさい。



問4 地図Ⅰについて、Aの都市があるエジプトは、標準時を協定世界時(世界共通の標準時)

+2と定めています。日本が1月12日13時のとき、エジプトは何月何日の何時ですか。

問5 地図Ⅱについて、面積を正しく表したこの地図の図法を何と何と云いますか。

問6 北緯40度の緯線が通る国として正しくないものを次のア～エの中から1つ選び、記号で答えなさい。

ア 中華人民共和国 イ 大韓民国 ウ スペイン エ アメリカ合衆国

問7 グラフⅢは、日本の輸出入の国別割合、品目別割合を示しています。グラフ中の空欄①～④にあてはまる語句の組合せとして正しいものを次のア～エの中から1つ選び、記号で答えなさい。

ア	①	アメリカ合衆国	②	中華人民共和国	③	自動車	④	原油
イ		アメリカ合衆国		中華人民共和国		原油		自動車
ウ		中華人民共和国		アメリカ合衆国		自動車		原油
エ		中華人民共和国		アメリカ合衆国		原油		自動車

問2 次の文章を読んで、あとの問いに答えなさい。

国土が南北に長く、山地の多い日本では、①地域の特色を生かした農業が行われてきた。なかでも、米作りは、日本の農業の中心であり、(a) 地方や新潟県、北海道は②米の生産量が多く、日本の穀倉地帯になっています。

四方を海で囲まれた日本は、(b) 漁業が盛んでしたが、近代以降は南太平洋やインド洋、大西洋でのまぐろ、かつおなどの(c) 漁業が盛んになりました。しかし、1970年代になり、世界各国が③200海里を経済水域として定め、外国漁船の操業を規制するようになると漁獲量は減少し、かわって稚魚を放流して育てる(d) 漁業などが行われるようになりました。

問1 文中の空欄(a)～(d)にあてはまる語句の組合せとして正しいものを次のア～エの中から1つ選び、記号で答えなさい。

(a)	(b)	(c)	(d)
ア	東北	沿岸	速洋
イ	九州	沖合	一本釣り
ウ	東北	沖合	速洋
エ	九州	沿岸	一本釣り

問2 下線部①について、温暖な気候を利用してビニールハウスで野菜や花を育てる農業を何と云いますか。

問3 下線部②について、米の生産量が世界一の国はどこですか。

問4 下線部③について、200海里として正しいものを次のア～エの中から1つ選び、記号で答えなさい。

ア 1852m イ 約22km ウ 約370km エ 約555km

