

1

次の手紙は、オーストラリアに留学している太郎君と花子さんに両親から送られてきた手紙です。手紙をよく読んで設問に答えなさい。

二人とも元気になっていますか。そちらはとても暑くて a 紫外線が強い ようですが大丈夫ですか。体には気をつけてくださいね。

先日、あなた達二人が幼かった時の写真を見ていたら昔のことを思い出しました。

あなた達二人が生まれた頃は b 女性が一生のうちに子どもを生む数がどんどん減ってきた 頃でした。私たちは、c 平成不況が終わった 93年に結婚しました。太郎が生まれた96年までの3年間は、政府がちょうど回復のきざしがみえていると言っていた時でした。しかし、私たちにはそうは思えませんでした。日々の生活と子どもを生み育てていくことに大きな不安を感じていました。

花子が生まれた97年には、その不安に追い打ちをかけるように d 税率が引き上げられ生活を直撃 しました。その結果、ますます、生活は厳しくなり、私はパートに出かけることになり e お父さんも育児に追われることになりました。

思い起こせば、あなた達二人が生まれてから今日まで様々なことがありました。二人には、世の中で起こっていることに興味や関心を抱き、疑問をもち矛盾を感じてもらいたいと思っています。是非一度 時代を振り返り自分史をつくってみてください。 g 過去を直視し、これから自分はどうかあるべきか、生きるべきかを考えて欲しい と思います。

帰国する日を楽しみに待っています。くれぐれも体には気をつけてください。

愛する二人のこども達へ

2010年2月

問1 下線部aに関連して、問いに答えなさい。

①オーストラリアで紫外線が強くなっている原因や影響に関する記述として誤っているものを、次のア～エの中から一つ選び記号で答えなさい。

- ア 冷蔵庫やクーラーなどの冷媒剤に含まれるガスが原因だ
- イ スプレーの噴射剤となるガスが原因だ
- ウ 農作物や森林を枯渇させる危険性が高い
- エ 皮膚ガンが発生する危険性が高い

②紫外線が直接肌に触れる原因となったのは、成層圏内のある層を破壊したためだと考えられます。ある層のことを何と言いますか。

問2 下線部bに関連して、問いに答えなさい。

①第二次世界大戦後、三世代が同居する大家族から、夫婦と未婚の子どもだけの家族が増えました。この様な家族を何家族と言いますか。漢字3字で答えなさい。

②一人の女性が一生のうちに子どもを生む数が減少した理由として誤っていると考えられるものを、次のア～エの中から一つ選び記号で答えなさい。

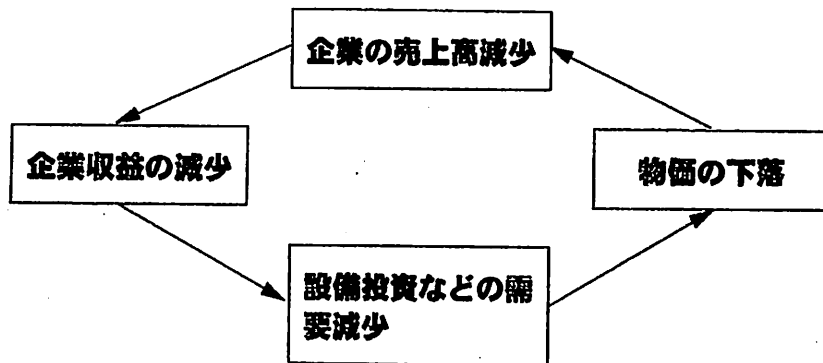
- ア 女性が結婚する年齢が高くなったから
- イ 女性で結婚しない人が増えたから
- ウ 女性の社会進出が進展したから
- エ 女性の平均寿命が延びたから

問3 下線部cに関連して、問いに答えなさい。

- ①平成不況は1980年代後半から90年代初頭にかけて発生した「平成景気」が崩壊したことにより起りました。まるで泡がふくらんだかのような平成景気のことを何と言いますか。カタカナ3字で答えなさい。
- ②前問①の時期、株価はどんどん上昇していきました。大量の資金が投入された結果、これと同じようにあるものの価格が上昇しました。あるものとは何ですか。漢字2字で答えなさい。
- ③この時期、金融機関は巨額に融資していた資金の相当額を回収することが難しくなりました。この様に相当額が回収不能となった債権のことを何と言いますか。漢字4字で答えなさい。
- ④この時期以降、銀行は経営不振に陥りました。当時の銀行や企業の様子を説明した記述として誤っているものを、次のア～エの中から一つ選び記号で答えなさい。

- ア 貸出しに慎重になった
- イ 経営破綻に陥る銀行が出た
- ウ 資金不足から倒産する企業が増えた
- エ 日本銀行から有価証券を大量に購入した

⑤次の図はこの時期以降に見られた現象です。この様な現象を何と言いますか。カタカナで答えなさい。



問4 下線部dに関連して、問いに答えなさい。

- ①この時、税率が引き上げられたのは何という税金ですか。税の名称を答えなさい。
- ②前問①の税について説明した記述として正しいものを、次のア～エの中から一つ選び記号で答えなさい。

- ア 税率が高くなれば外国製品が国内に入りにくくなる
- イ 低所得者や高齢者など社会的弱者の税負担が重くなる
- ウ 高所得者ほど税率が高くなる
- エ 担税者と納税者が同一の税金である

問5 下線部eに関連して、問いに答えなさい。

- ①近年、育児を理由に仕事を休む男女が徐々に増えています。男女が協力して子育てや介護などにあたれるように1999年に労働基準法とともに改正・施行された法律を何と言いますか。法律の名称を答えなさい。
- ②前問①と同年に施行され、男女の区別なく、個人として能力を生かすことができる社会づくりを進めるために施行された法律を何と言いますか。法律の名称を答えなさい。

問6 下線部gに関連して、日本は過去の戦争に対し憲法前文に記された理念を第9条で具体化しています。これに関連して各問いに答えなさい。

①前文と第9条の文章の空欄 (A) ~ (D) に当てはまる語句として、正しいものを表中のア~エの中から一つ選び記号で答えなさい。

(A)によって再び戦争の惨禍が起こることのないやうにすることを決意し...

われらは、全世界の国民が、ひとしく恐怖と欠乏から免れ、(B)権利を有することを確認する。

国権の発動たる戦争と、武力による威嚇又は、武力の行使は、(C)を解決する手段としては永久にこれを放棄する。

前項の目的を達するため、陸海空軍その他の戦力は、これを保持しない。国の(D)は、これを認めない。

	A	B	C	D
ア	自国の行為	生まれながらに有する	政府の行為	自衛権
イ	自国の行為	平和のうちに生存する	政府の行為	自衛権
ウ	政府の行為	生まれながらに有する	国際紛争	交戦権
エ	政府の行為	平和のうちに生存する	国際紛争	交戦権

②日本は徹底した平和主義を貫くため二度と戦争をしないことを国際社会に誓いました。憲法ではそれを貫くしくみを次のように記しています。空欄に語句を当てはめると次の図が完成されます。図中の○にカタカナを補い完成させなさい。

内閣総理大臣その他の国務大臣は
 でなければならない。 = ○○○○○○・○○○○○○○

2 日本では昔から様々な場所で人々の生活が営まれてきました。各時代の人々の暮らしを取り巻く様子や政治のありさまについて、次のA~Fの文章を読んで、あとの設問に答えなさい。

A 周囲を堀や土塁で囲んだ家に住み、a 荘園や公領(朝廷の土地)で農業などを営む住民を支配した武士は、荘園領主におさめる年貢の取立てを請け負い、田畠・山野や川・海などからとれる産物の一部を自分のものとしていた。b 農村では農業生産力が高まり、手工業も発展し、人々の生活は向上した。

B c 奈良盆地を中心に強力な政権が生まれ、d 大きな墓がつくられるようになった。この政権は、王を中心に、近畿地方の有力な豪族によってつくられていた。一方、多くの人々は豪族たちの屋敷地とは別に堅穴住居に住み、その墓は穴を掘っただけの簡単なものであった。

- C 東北地方の北部にはe 律令国家の支配が及ばない地域があった。朝廷は、東北地方に対してたびたび大軍を送り、その勢力を広げた。一方、都ではf 藤原氏が朝廷の高い地位をほとんど独占し、多くの荘園をもつようになった。また武官が貴族の身辺や屋敷の警護を行い、実力を認められていった。このような、地方の豪族と中央の武官との交流のなかから武士がおこり、g 武士はやがて従者を組織して武士団をつくるほどに成長した。
- D 人々は犬を使い、シカやイノシシなどのh 小動物を狩りでしとめるようになった。また、魚や貝をとるようになり、森では木の実を大量に採集し、貯蔵するようになった。人々は集団をつくり、堅穴住居に分かれて住んだ。海岸や水辺に、i 食べ物の残りかすなどを捨てた。
- E 江戸をはじめ各地では、武士とともにj 多くの商人や職人も城下町で生活を営んだ。農村ではk 農家5～6戸を一組にして年貢納入や犯罪の防止に連帯責任が負わされ、村の有力者が名主・組頭・百姓代などの役目につき、村の運営にあたった。
- F 朝廷を中心にして政治が行われた。地方では、都から派遣された役人が地方出身の役人を監督した。現在の奈良市に建設された都には、東西南北にまっすぐな道路がはしり、貴族の邸宅や大寺院とともに、身分の低い役人や庶民の住む板ぶきや草ぶきの住居も建てられた。また、都に住む約10万の人々のため、l 品物が売買される施設もつくられた。

- 問1 下線部 a について、これらの武士は荘園に派遣され、どのような役職に任命されていましたか。役職名を答えなさい。
- 問2 下線部 b について、この頃の農業についての文として誤っているものを、次のア～エの中から一つ選び記号で答えなさい。
- ア 牛や馬を耕作に使うようになった
 イ 代金を払って購入する肥料が使われるようになった
 ウ 米の裏作に麦を作る二毛作が広がった
 エ 草や木を燃やしたあとの灰が肥料として使われるようになった
- 問3 文Bについて、この時代に農具の材料として普及した金属とは何ですか。
- 問4 下線部 c について、この強力な勢力を何と言いますか。政権名を答えなさい。
- 問5 下線部 d について、大きな墓の中で、四角形と円形を組み合わせたような平面形のものを何と言いますか。その名称を答えなさい。
- 問6 下線部 e について、律令政治の及ばない地域に住む人々のことを何と言いますか。ひらがなで答えなさい。
- 問7 下線部 f について、藤原氏はどのような政治を行いましたか。政治の名称を答えなさい。
- 問8 下線部 g について、源氏とともに武士団の統率者となったのは何氏ですか。氏族名を答えなさい。
- 問9 下線部 h について、この時代に小動物の狩猟で使われるようになった道具は何ですか。
- 問10 下線部 i について、食べ物の残りかすなどを捨てた跡を何と言いますか。
- 問11 下線部 j について、商人や職人をまとめてよんだ呼び名を何と言いますか。
- 問12 下線部 k について、まとめられた集団を何と言いますか。
- 問13 文Fについて、この時代の日本の都は何という都ですか。都の名称を答えなさい。
- 問14 下線部 l について、品物が売買される施設とはどこですか。その名称を答えなさい。
- 問15 文A～Fは縄文時代から始まる、各時代についての説明文です。それぞれ何時代の文章ですか。時代名を次のア～サの中から、それぞれ選び記号で答えなさい。

ア 縄文時代 イ 弥生時代 ウ 古墳時代 エ 飛鳥時代 オ 奈良時代 カ 平安時代
 キ 鎌倉時代 ク 室町時代 ケ 戦国時代 コ 安土・桃山時代 サ 江戸時代

3 日本と世界の地理に関する以下の設問に答えなさい。

問1 図1の黒色部分は日本の領土を含む経済水域を表したものです。そのうち、Aの経済水域に位置する島に関して述べた文として誤っているものを、次のア～エの中から一つ選び記号で答えなさい。なお、経済水域とは沿岸から200海里(約370km)の範囲をさします。

- ア この島は伊豆・小笠原海溝よりも東に位置している
- イ この島は沖の鳥島である
- ウ この島は行政上は東京都に入る
- エ この島は京都市よりも南に位置している

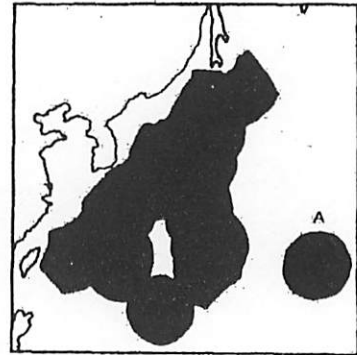

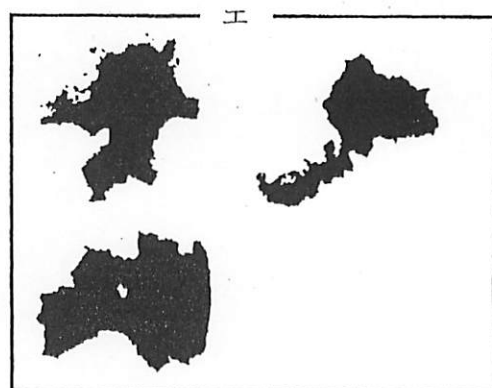
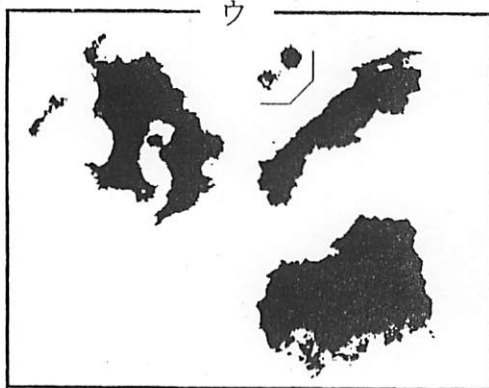
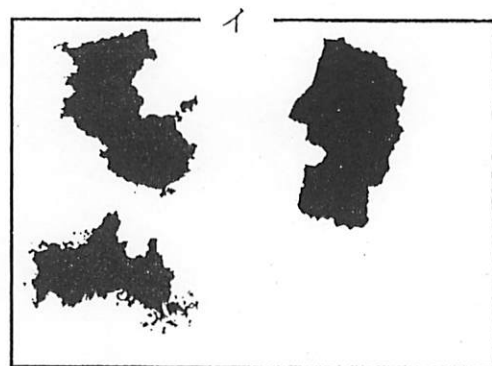
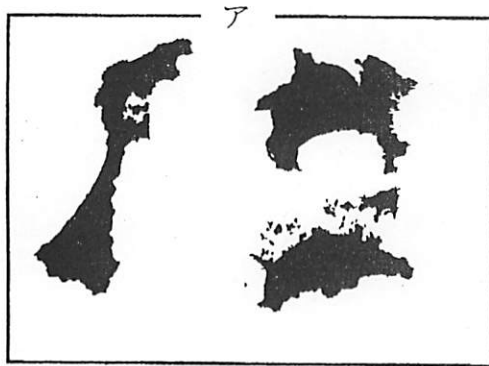


図1

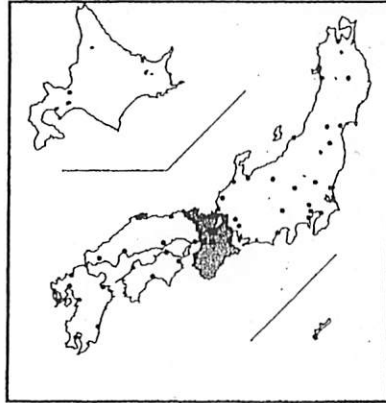
問2 次のア～エのグループは日本の都道府県を県名に関するある共通の漢字をもとに集めたものです。図Xはア～エのうちどれに当てはまりますか。正しいものを一つ選び記号で答えなさい。なお、縮尺は一定ではありません。



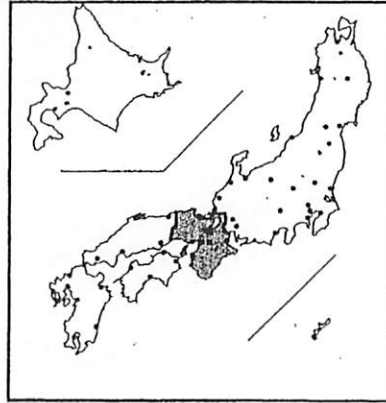
X



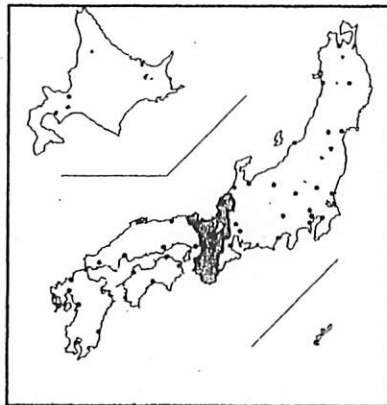
問3 日本の8地方区分による近畿地方の範囲を示した図として正しいものを、次のア～エの中から一つ選び記号で答えなさい。図中の・は都道府県庁所在都市を表します。



ア



イ



ウ



エ

問4 下の文章は図2中のア～エのいずれかの地域の説明です。該当する場所を図2中のア～エの中から一つ選び記号で答えなさい。

世界でも有数の活火山が位置しており、火山噴火によって火山灰が降り積もることもあります。

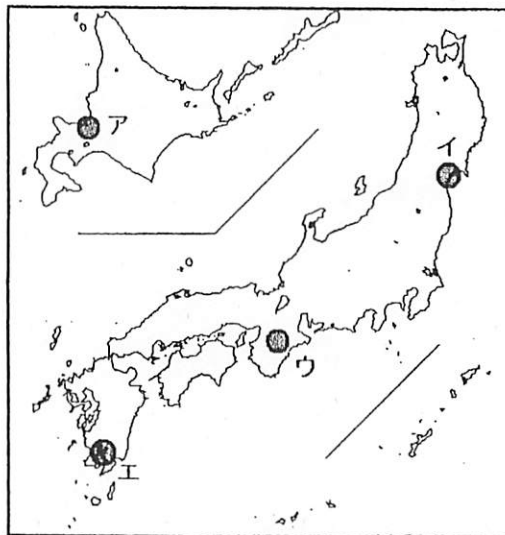


図2

